

• Реши примеры на сложение и вычитание.



$1 + 4 =$

$3 + 3 =$

$5 - 3 =$

$6 - 3 =$



$5 - 2 =$

$3 + 3 =$

$3 + 2 =$

$6 - 3 =$

$5 + 0 =$

$6 - 2 =$



$5 - 4 =$

$4 + 2 =$

$2 + 3 =$

$6 - 4 =$



$4 + 1 =$

$6 - 5 =$

$0 + 5 =$

$6 - 1 =$



$5 + 1 =$


$1 + 5 =$

$6 + 0 =$

$0 + 6 =$

16

• Посчитай морских обитателей. Запиши результаты в квадратиках.



Морские
звёзды

$\square + \square = \square$

маленькие большие

Рыбки

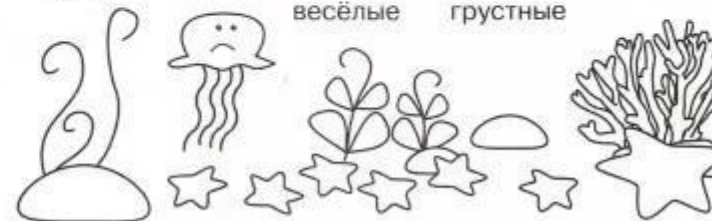
$\square + \square = \square$

пятнистые полосатые

Медузы









$\square + \square = \square$

весёлые грустные


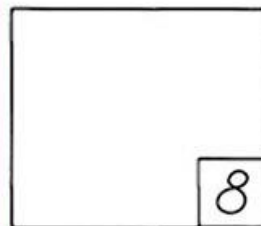

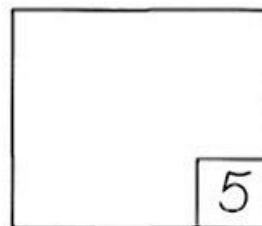
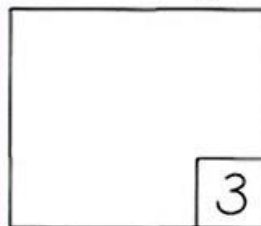


17

Соедини овалы с одинаковым количеством предметов.



Нарисуй столько предметов, сколько обозначает данная цифра.



Соедини цифры по точкам в порядке возрастания. Раскрась получившуюся картинку.

6 • 7 •

5 • 4 •

2 •

3 • 8 •

• 9

